

COLLE LE CHIFFRE QUI CORRESPOND À
LA QUANTITÉ DE MADAME BONHEUR



Prénom : _____





























COLLE LE CHIFFRE QUI CORRESPOND À LA QUANTITÉ DE MADAME BONHEUR



Prénom :

LUNDI				MARDI				MERCREDI					JEUDI				VENDREDI					SAMEDI				DIMANCHE				
1	2	3	4	5	6	7	8	9	10	11	12	13	14	15	16	17	18	19	20	21	22	23	24	25	26	27	28	29	30	31
SEPTEMBRE				OCTOBRE				NOVEMBRE					DÉCEMBRE				JANVIER					FÉVRIER				MARS				

Colle le chiffre qui correspond à la quantité de Madame Bonheur

1	2	3	3	4	4
5	5	6	6	7	7

1	2	3	3	4	4
5	5	6	6	7	7

1	2	3	3	4	4
5	5	6	6	7	7

1	2	3	3	4	4
5	5	6	6	7	7