

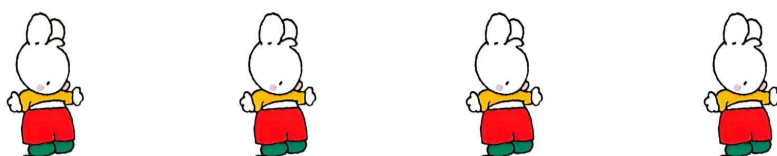



COLLE LE CHIFFRE QUI CORRESPOND
À LA QUANTITÉ DE LAPINS



Prénom : _____







COLLE LE CHIFFRE QUI CORRESPOND À LA QUANTITÉ DE LAPINS



Prénom :

LUNDI				MARDI				MERCREDI					JEUDI			VENDREDI						SAMEDI				DIMANCHE				
1	2	3	4	5	6	7	8	9	10	11	12	13	14	15	16	17	18	19	20	21	22	23	24	25	26	27	28	29	30	31
SEPTEMBRE				OCTOBRE			NOVEMBRE				DÉCEMBRE			JANVIER			FÉVRIER			MARS		AVRIL		MAI		JUIN		JUILLET		

Colle le chiffre qui correspond à la quantité de lapins

1	1	2	2	3	3
4	4	5	5	6	6

1	1	2	2	3	3
4	4	5	5	6	6

1	1	2	2	3	3
4	4	5	5	6	6

1	1	2	2	3	3
4	4	5	5	6	6