



COLLE LE CHIFFRE QUI CORRESPOND
À LA QUANTITÉ D'ESCARGOTS

Prénom : _____








COLLE LE CHIFFRE QUI CORRESPOND À LA QUANTITÉ D'ESCARGOTS



Prénom :

LUNDI				MARDI				MERCREDI				JEUDI				VENDREDI				SAMEDI				DIMANCHE																							
1	2	3	4	5	6	7	8	9	10	11	12	13	14	15	16	17	18	19	20	21	22	23	24	25	26	27	28	29	30	31																	
SEPTEMBRE				OCTOBRE				NOVEMBRE				DÉCEMBRE				JANVIER				FÉVRIER				MARS				AVRIL				MAI				JUIN				JUILLET				AOÛT			

Colle le chiffre qui correspond à la quantité d'escargots

1	2	3	3	4	4
5	5	6	6	7	7

1	2	3	3	4	4
5	5	6	6	7	7

1	2	3	3	4	4
5	5	6	6	7	7

1	2	3	3	4	4
5	5	6	6	7	7