








ÉCRIS LE NOMBRE QUI CORRESPOND À
LA QUANTITÉ DE FLOCONS

	— — — — —
	— — — — —
	— — — — —
	— — — — —
	— — — — —
	— — — — —
	— — — — —

Prénom : _____








ÉCRIS LE NOMBRE QUI CORRESPOND À LA QUANTITÉ DE FLOCONS

	— — — — —
	— — — — —
	— — — — —
	— — — — —
	— — — — —
	— — — — —
	— — — — —

Prénom :

LUNDI				MARDI				MERCREDI				JEUDI				VENDREDI				SAMEDI				DIMANCHE																							
1	2	3	4	5	6	7	8	9	10	11	12	13	14	15	16	17	18	19	20	21	22	23	24	25	26	27	28	29	30	31																	
SEPTEMBRE				OCTOBRE				NOVEMBRE				DÉCEMBRE				JANVIER				FÉVRIER				MARS				AVRIL				MAI				JUIN				JUILLET				AOÛT			

Écris le nombre qui correspond à la quantité de flocons

	_ _ _ _ _
	_ _ _ _ _
	_ _ _ _ _
	_ _ _ _ _
	_ _ _ _ _
	_ _ _ _ _
	_ _ _ _ _