

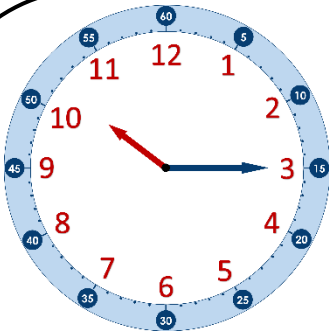
Prénom : .....

Date : ..... / ..... / .....

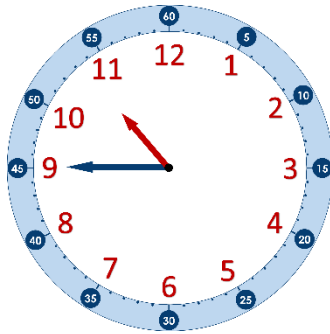
En lien avec la leçon

## Lire l'heure sur une horloge à aiguilles

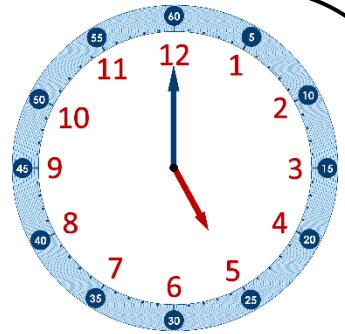
Exercice ① : Indique l'heure qu'il est sur chaque horloge (c'est le matin).



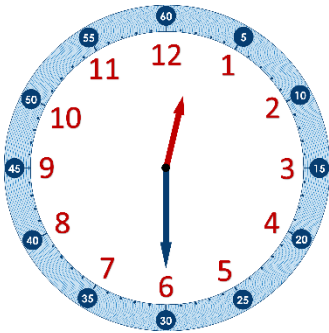
.....



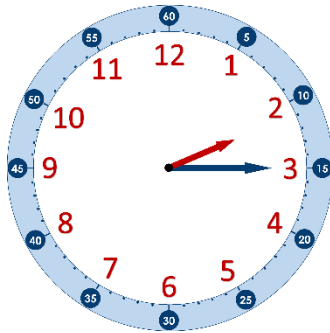
.....



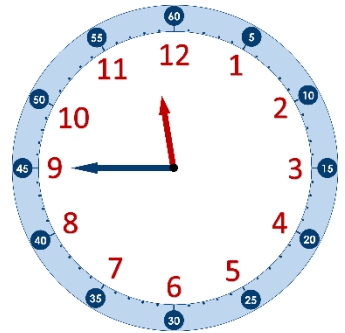
.....



.....

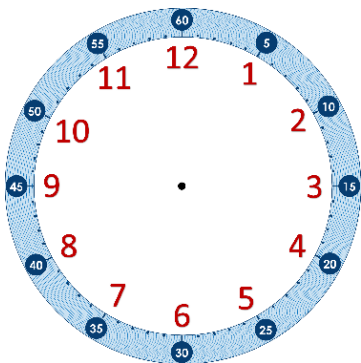


.....

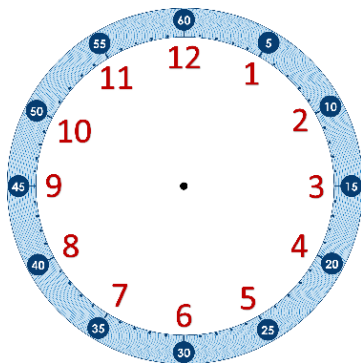


.....

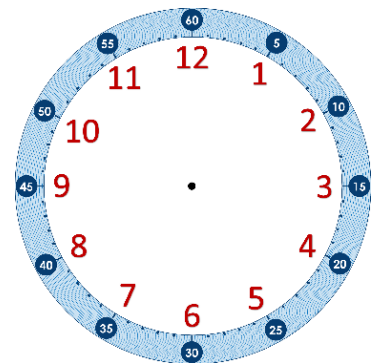
Exercice ② : Trace les aiguilles correspondant à l'heure indiquée sous chaque horloge.



deux heures et quart



neuf heures moins le quart



six heures trois quarts

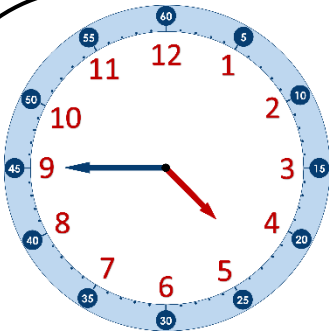
Prénom : .....

Date : ..... / ..... / .....

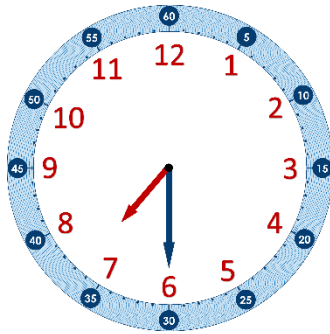
En lien avec la leçon

## Lire l'heure sur une horloge à aiguilles

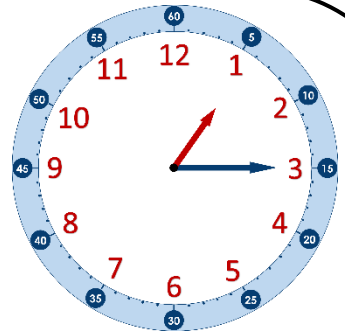
Exercice ① : Indique l'heure qu'il est sur chaque horloge (c'est le matin).



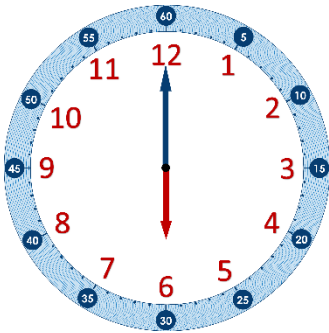
.....



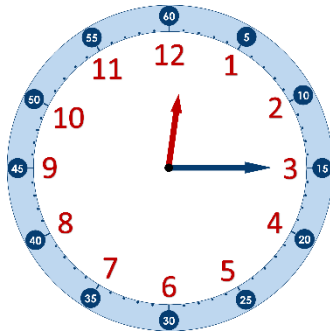
.....



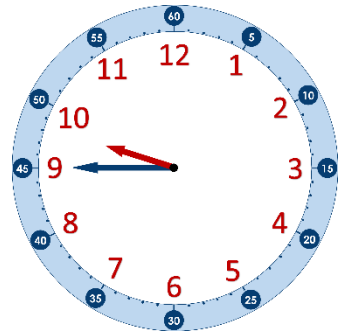
.....



.....

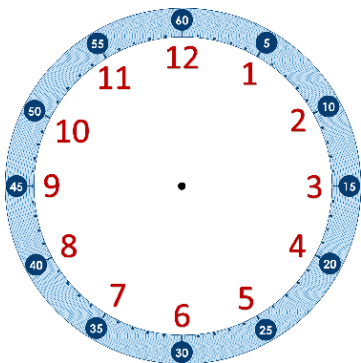


.....

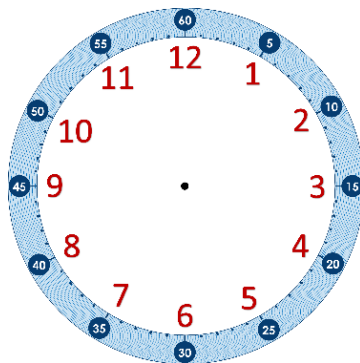


.....

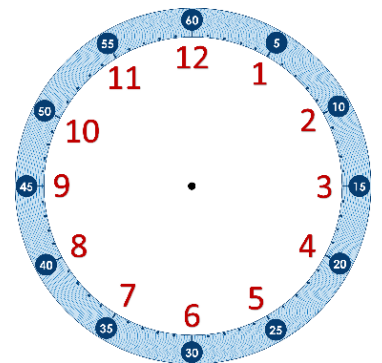
Exercice ② : Trace les aiguilles correspondant à l'heure indiquée sous chaque horloge.



quatre heures et demie



sept heures trois quarts



neuf heures moins le quart