

Prénom :

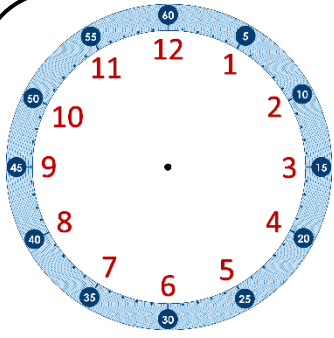
Date : / /

En lien avec la leçon

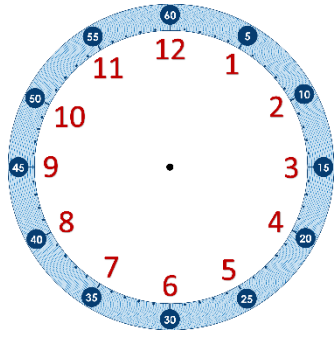
Lire l'heure sur une horloge à aiguilles Évaluation

Compétences travaillées	NA	ECA	A
Comprendre le fonctionnement d'une horloge à aiguilles			
Lire l'heure sur une horloge ou une montre à aiguilles			

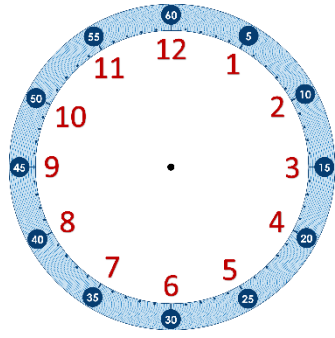
Exercice (1) : Trace les aiguilles correspondant à l'heure indiquée sous chaque horloge.



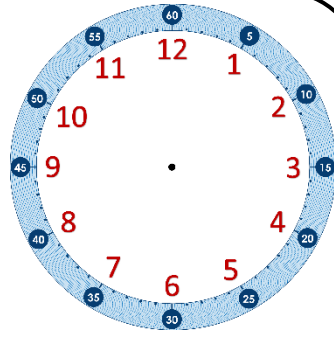
11 h 20



16 h 12

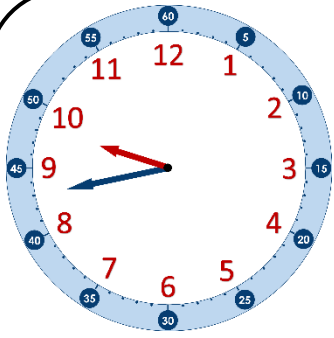


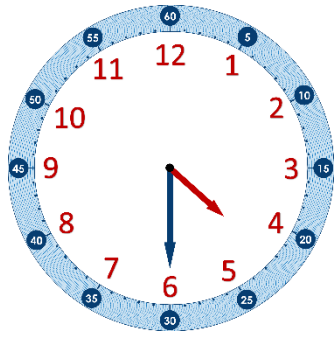
12 h 06

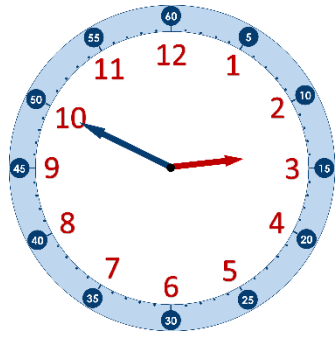


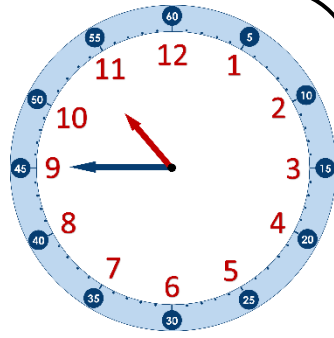
4 h 15

Exercice (2) : Indique l'heure précise qu'il est sur chaque horloge (le matin).









Exercice 3 : Colorie l'horloge associée à « sept heures moins le quart ».

