

Prénom :

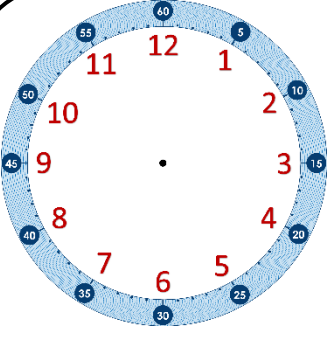
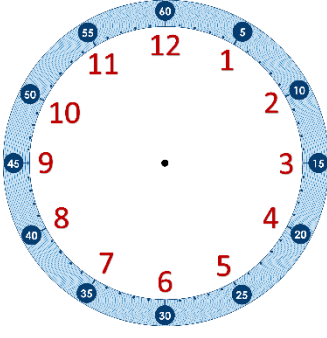
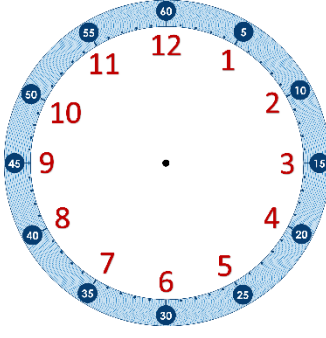
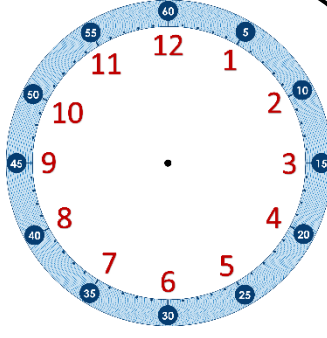
Date : / /

En lien avec la leçon

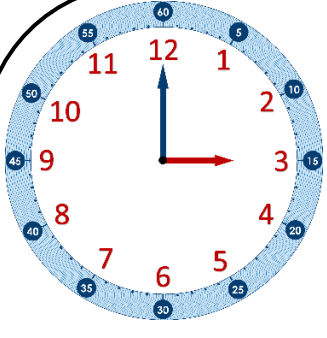
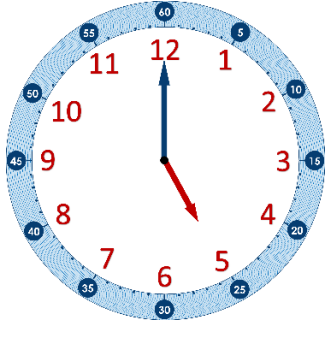
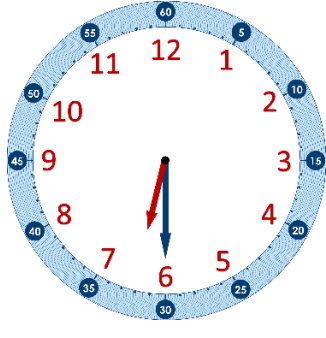
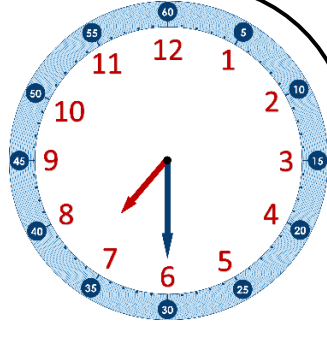
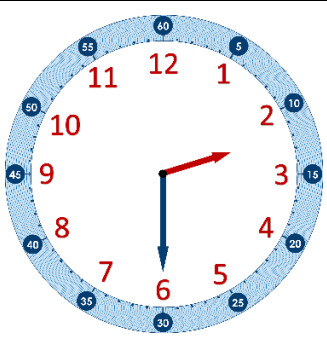
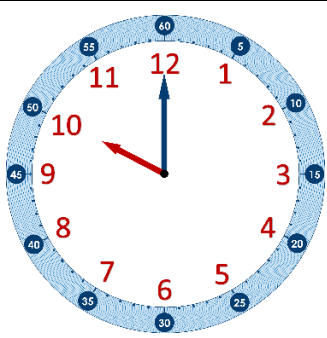
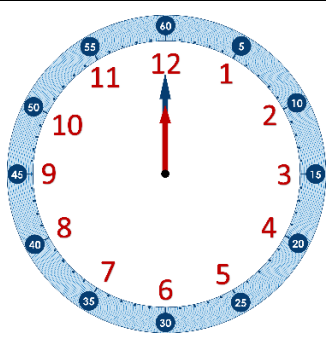
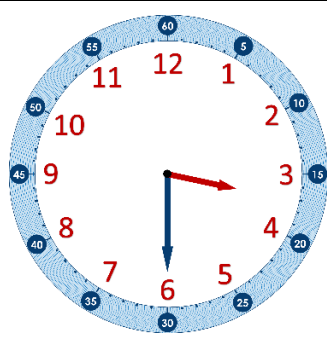
Lire l'heure sur une horloge à aiguilles Évaluation

Compétences travaillées	NA	ECA	A
Comprendre le fonctionnement d'une horloge à aiguilles			
Lire l'heure sur une horloge ou une montre à aiguilles (heures piles et demi-heures)			

Exercice ① : Trace les aiguilles correspondant à l'heure indiquée sous chaque horloge.

 <p>11 h 00</p>	 <p>4 h 30</p>	 <p>1 h 00</p>	 <p>12 h 30</p>
---	---	--	--

Exercice ② : Indique l'heure qu'il est sur chaque horloge.

 <p>__ h __</p>	 <p>__ h __</p>	 <p>__ h __</p>	 <p>__ h __</p>
 <p>_____</p>	 <p>_____</p>	 <p>_____</p>	 <p>_____</p>