

Prénom : .....

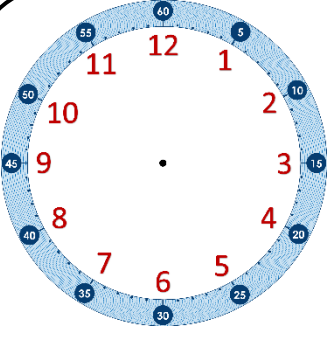
Date : ..... / ..... / .....

En lien avec la leçon

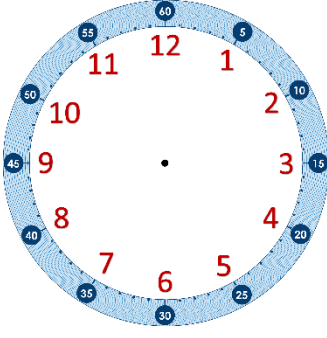
# Lire l'heure sur une horloge à aiguilles Évaluation

Compétences travaillées	NA	ECA	A
Comprendre le fonctionnement d'une horloge à aiguilles			
Lire l'heure sur une horloge ou une montre à aiguilles (heures piles)			

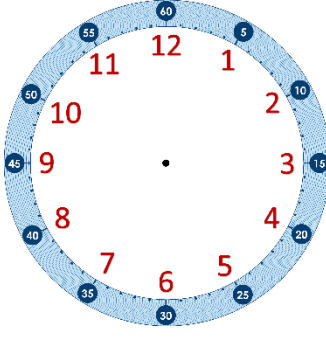
Exercice ① : Trace les aiguilles correspondant à l'heure indiquée sous chaque horloge.



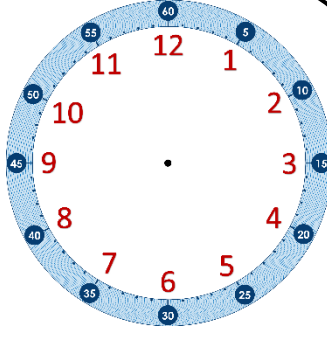
10 h 00



7 h 00

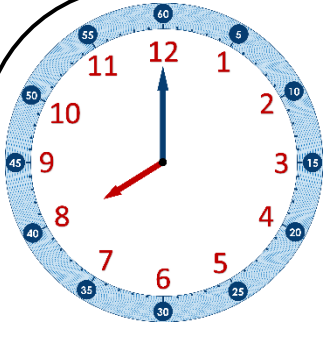


6 h 00

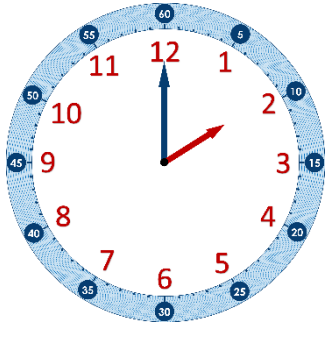


3 h 00

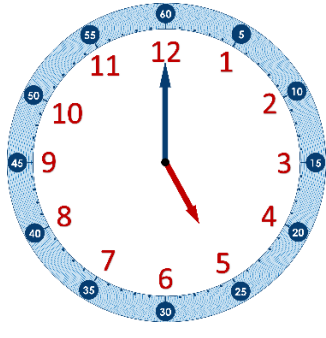
Exercice ② : Indique l'heure qu'il est sur chaque horloge.



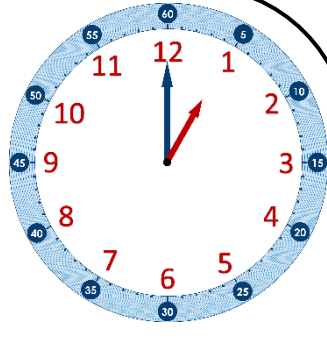
\_\_ h \_\_



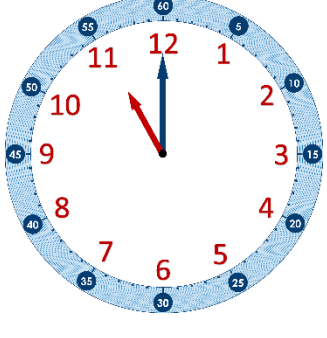
\_\_ h \_\_



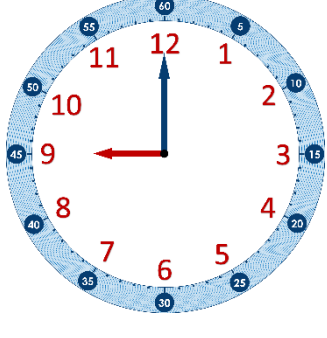
\_\_ h \_\_



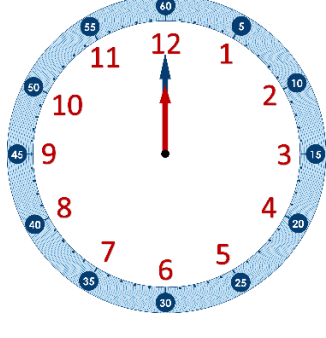
\_\_ h \_\_



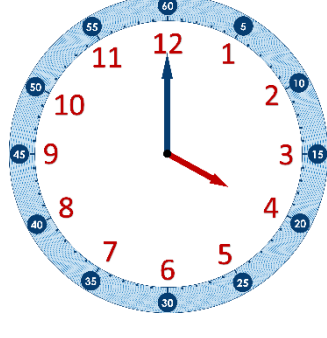
\_\_ h \_\_



\_\_ h \_\_



\_\_ h \_\_



\_\_ h \_\_