
























Prénom :

Date : / /

En lien avec la leçon

La monnaie - exercices

Exercice : Calcule et écris la somme contenue sur chaque ligne.

  	----- €
   	----- €
   	----- €
   	----- €
 	----- €
  	----- €
  	----- €


















































































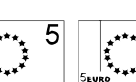










Prénom :

Date : / /

En lien avec la leçon

La monnaie - exercices

Exercice : Colorie les pièces et les billets nécessaires pour obtenir la somme indiquée.

8 €	               
2 €	               
14 €	               
9 €	               
11 €	               
21 €	               

Prénom :

Date : / /

En lien avec la leçon

La monnaie - exercices

Exercice : Dessine les pièces et les billets nécessaires pour obtenir la somme indiquée.

4 €	
13 €	
7 €	
16 €	
24 €	
29 €	

Prénom :

Date : / /

En lien avec la leçon
.....

La monnaie - exercices

Exercice : Dessine le moins de pièces et de billets possible pour obtenir la somme indiquée

3 €	
10 €	
17 €	
21 €	
25 €	
28 €	


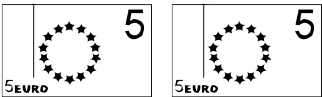




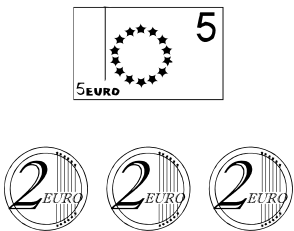
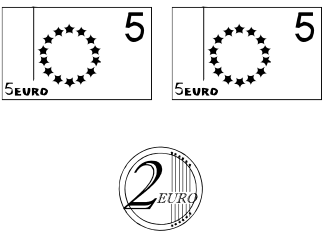
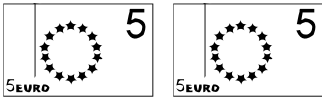



Prénom :

Date : / /

En lien avec la leçon

La monnaie - exercices

Exercice : Sur chaque ligne, entoure l'enfant qui a le plus d'argent.

 <p>Zoé</p>	 <p>Mehdi</p>	 <p>Alex</p>
 <p>Julie</p>	 <p>Juan</p>	 <p>Maxime</p>
 <p>Keïna</p>	 <p>Antoine</p>	 <p>Andrew</p>
 <p>Timéo</p>	 <p>Inès</p>	 <p>Camille</p>






Prénom :

Date : / /

En lien avec la leçon

La monnaie - exercices

Exercice : Indique combien d'argent il restera à chaque enfant après avoir acheté son jouet.

Enfant + argent possédé	Jouet + prix	Argent restant
David 8 €	 6 €	_____ €
Eléonore 5 €	 3 €	_____ €
Samy 10 €	 4 €	_____ €
Julia 13 €	 10 €	_____ €
Rahnia 20 €	 15 €	_____ €

Prénom :

Date : / /

En lien avec la leçon

La monnaie - exercices

Exercice : Indique combien le marchand va rendre pour chaque achat.

L'objet coûte	Tu donnes	Le marchand va te rendre
3 €		_____ €
2 €		_____ €
4 €		_____ €
5 €		_____ €
9 €		_____ €
7 €		_____ €
10 €		_____ €
18 €		_____ €
14 €		_____ €







Prénom :

Date : / /







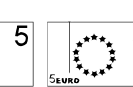









En lien avec la leçon

La monnaie - révisions

Exercice 1 : Calcule et écris la somme contenue sur chaque ligne.

     	_____ €
--	---------











Exercice 2 : Colorie les pièces et les billets nécessaires pour obtenir la somme indiquée.

19 €	               
------	--

Exercice 3 : Dessine le moins de pièces et de billets possible pour obtenir la somme indiquée.

16 €	
------	--

Exercice 4 : Entoure l'enfant qui a le plus d'argent.

  Myriam	   Teddy	     Alice
---	--	--





Prénom :

Date : / /





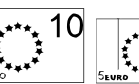


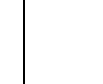








En lien avec la leçon

La monnaie - révisions


Exercice 1 : Calcule et écris la somme contenue sur chaque ligne.

   	----- €
---	---------


Exercice 2 : Colorie les pièces et les billets nécessaires pour obtenir la somme indiquée.

29 €	               
------	---

Exercice 3 : Indique combien d'argent il restera à Quentin après avoir acheté son jouet.

Enfant + argent possédé	Jouet + prix	Argent restant
Quentin 10 €	 7 €	----- €

Exercice 4 : Indique combien le marchand va rendre.

L'objet coûte	Tu donnes	Le marchand va te rendre
14 €		----- €