

Prénom :






Date : / /

En lien avec la leçon

















La monnaie - évaluation

Compétences évaluées	NA	ECA	A
Résoudre des problèmes, notamment de mesurage et de comparaison, en utilisant l'addition et la soustraction sur les grandeurs ou leurs mesures : principes d'utilisation de la monnaie (en euros). (1, 5, 6)			
Comparer des sommes en euros. (4)			
Savoir manipuler la monnaie (en euros). (2, 3, 6)			

Exercice 1 : Calcule et écris la somme contenue sur la ligne.

    	<p>----- €</p>
---	----------------


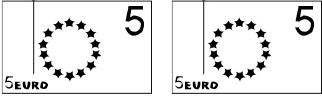

Exercice 2 : Colorie les pièces et les billets nécessaires pour obtenir la somme indiquée.

<p>13 €</p>	               
-------------	--


Exercice 3 : Dessine le moins de pièces et de billets possible pour obtenir la somme indiquée

<p>26 €</p>	
-------------	--


Exercice 4 : Entoure l'enfant qui a le plus d'argent.

 Edgar	 Louise	 Meredith
---	---	---

Exercice 5 : Indique combien d'argent il restera à Lucas après avoir acheté son jouet.

Enfant + argent possédé	Jouet + prix	Argent restant
Lucas 12 €	 4 €	_____ €

Exercice 6 : Indique combien le marchand va rendre pour cet achat.

L'objet coûte	Tu donnes	Le marchand va te rendre
6 €		_____ €